

M 80. Écoulement divergent, écoulement rotationnel

On rappelle le théorème d'Ostrogradski $\iiint_{V(S)} \text{div } \vec{X} d^3V = \iint_S \vec{X} \cdot d^2\vec{S}$

et le théorème de Stokes-Ampère $\iint_{s(c)} \overrightarrow{\text{rot}}(\vec{X}) \cdot d^2\vec{S} = \oint_c \vec{X} \cdot d\vec{OM}$, \vec{X} désignant un vecteur.

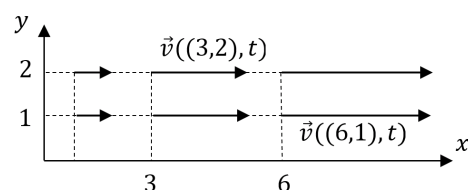
On rappelle également (mais ça, c'est à connaître Δ) que $\text{div } \vec{X} = \nabla \cdot \vec{X}$ et $\overrightarrow{\text{rot}} \vec{X} = \nabla \wedge \vec{X}$

- 1) Rappeler la définition d'un écoulement divergent, sous forme intégrale.
En déduire qu'un écoulement est divergent si $\text{div } \vec{v} \neq 0$ (définition locale).
- 2) Rappeler la définition d'un écoulement rotationnel, sous forme intégrale.
En déduire qu'un écoulement est rotationnel si $\overrightarrow{\text{rot}} \vec{v} \neq \vec{0}$ (définition locale).

M 81. Caractérisation d'un écoulement

Soit un écoulement caractérisé par $\vec{v} = kx \vec{u}_x$, $k = \text{cste}$ (voir schéma)

- 1) Discuter du caractère divergent de cet écoulement en évaluant sans calcul le flux de la vitesse à travers une surface fermée cubique. Observer en particulier si le flux entrant par la gauche est égal à celui qui sort par la droite.
- 2) Vérifier que $\text{div } \vec{v} \neq 0$. Conclure.
- 3) Discuter du caractère rotationnel de cet écoulement en évaluant sans calcul la circulation de la vitesse sur un chemin fermé rectangulaire. Observer en particulier le signe de $\vec{v} \cdot d\vec{OM}$ de gauche à droite et de droite à gauche.
- 4) Vérifier que $\overrightarrow{\text{rot}} \vec{v} = \vec{0}$. Conclure.



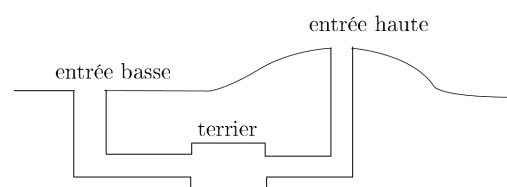
M 82. Filet d'eau issu d'un robinet [Résolution de problème]

Le jet d'eau provenant d'un robinet a un rayon moins important au fur et à mesure qu'il tombe. Expliquer pourquoi. Exprimer ce rayon en fonction de la distance h par rapport au robinet (celui-ci a un rayon R_A et l'eau sort à la vitesse v_A). Effectuer l'application numérique en donnant des valeurs raisonnables aux grandeurs qui interviennent.

M 83. Aération d'un terrier [Résolution de problème]

Dans les prairies Nord-Américaines, les chiens de prairie construisent deux types d'entrée pour leurs terriers (voir ci-contre).

Expliquer pourquoi ce système permet l'aération du terrier.

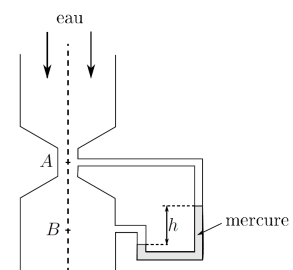


M 84. Collision de deux navires [Résolution de problème]

Deux navires animés d'un même mouvement de translation rectiligne uniforme de vitesse v suivent des routes parallèles en restant à même hauteur. Expliquer pourquoi il y a risque de collision.

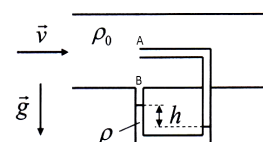
M 85. Effet Venturi

On considère le dispositif de la figure ci-contre. L'écoulement est stationnaire, de débit massique D_m . Exprimer D_m en fonction de R_A et R_B rayons de la conduite en A et en B, de la dénivellation h , de la masse volumique ρ_{Hg} du mercure et de la masse volumique ρ_{eau} de l'eau.



M 86. Tube de Pitot à prise frontale

Une sonde cylindrique horizontale est parcourue par de l'air de masse volumique ρ_0 et de vitesse \vec{v} parallèle à son axe. Une dérivation avec une prise frontale et une prise latérale contient du mercure de masse volumique ρ et qui se stabilise avec une dénivellation h . La prise frontale (A) est si petite que l'air y est stoppé à son entrée et la prise latérale (B) ne perturbe pas l'écoulement, de sorte que la vitesse de l'air y est identique à \vec{v} .




Montrer par un calcul approché que la norme de la vitesse v s'exprime simplement en fonction de ρ , g , h et ρ_0 .

AN : Que vaut v pour $h = 3 \text{ cm}$? On donne $\rho = 13,6 \cdot 10^3 \text{ kg} \cdot \text{m}^{-3}$; l'air sera assimilé à un gaz parfait, $R = 8,31 \text{ J} \cdot \text{K}^{-1} \cdot \text{mol}^{-1}$; dans les conditions standard la masse molaire moyenne de l'air est $M = 29 \text{ g} \cdot \text{mol}^{-1}$.

Rép : $v = \sqrt{\frac{2\rho gh}{\rho_0}} \approx 82 \text{ m} \cdot \text{s}^{-1}$

M 87. Autre tube de Pitot

On place un tube de Pitot sur l'aile d'un avion pour déterminer sa vitesse. On se place dans le référentiel tel que le tube de Pitot soit immobile. Un manomètre donne la mesure de la différence de pression $\Delta p = p_{(A)} - p_{(S)}$. Le point A est un point d'arrêt et le point S est assez éloigné de A pour que l'écoulement n'y soit pas perturbé.



Soient p_0 , ρ_0 , et v_0 les caractéristiques du fluide loin du tube. On suppose l'écoulement stationnaire, homogène et parfait.

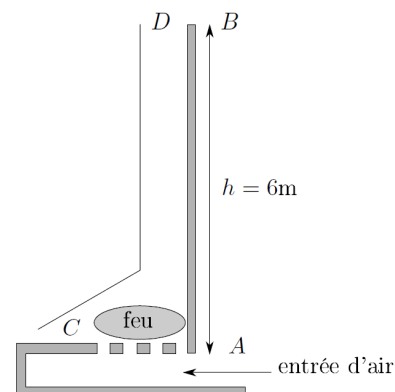
- 1) Expliquer la façon d'utiliser un tel manomètre. Comment mesure-t-on Δp ?
- 2) Exprimer v_0 en fonction de Δp et ρ_0 .

Rép : $v_0 = \sqrt{\frac{2\Delta p}{\rho_0}}$

M 88. Étude d'une cheminée


On étudie l'écoulement de l'air dans une cheminée. La température à l'intérieur du conduit est supposée constante, $T_C = 150 \text{ }^\circ\text{C}$. La température extérieure est $T_E = 10 \text{ }^\circ\text{C}$, la pression extérieure de 1 bar. L'air est assimilé à un gaz parfait.

- 1) Calculer $p_A - p_B$ où A est un point au niveau de l'entrée d'air et B un point en haut de la cheminée, tous les deux à l'extérieur, en fonction de la masse volumique, de g et de h .
- 2) Exprimer puis calculer la vitesse v_D à la sortie D du conduit en supposant que la vitesse de l'air est nulle en C.
- 3) En réalité, la vitesse est plus faible. Pourquoi ?



M 89. Vidange d'un récipient par une paille

On perce une bouteille d'eau minérale d'un petit trou dans lequel on place une paille. La bouteille est assimilée à un cylindre de rayon R parfaitement diatherme. La paille est horizontale, sa section s est très petite devant celle de la bouteille. La pression extérieure p_0 est constante, la température extérieure T_0 aussi. La hauteur initiale d'eau est h_0 . L'air de la bouteille est à chaque instant en équilibre thermique avec l'extérieur.



- 1) La pression de l'air contenu dans la bouteille est noté p_A . À $t = 0$, $p_A = p_0$. Exprimer p_A en cours de vidange en fonction de p_0 , h , h_0 et H .
- 2) Calculer la vitesse d'éjection de l'eau en fonction de p_0 , h , h_0 , H , g et la masse volumique de l'eau.
- 3) Déterminer l'équation vérifiée par h_f , hauteur d'eau à la fin de la vidange.

M 90. Caractère divergent/rotationnel d'un écoulement

Considérons l'écoulement d'un liquide photographié ci-contre.

- Cet écoulement est-il rotationnel ?
Cet écoulement est-il divergent ?

